

2026학년도 미림마이스터고 신입생 전형 안내

1. 뉴미디어종합검사 (공통)

- 적성검사: 언어이해, 수열추리, 지각표상, 수리이해, 공간이해
(5개 영역, 예시문항 참고)
- 인성검사: (예시 문항 미제공)

2. 심층면접 (공통)

- 면접영역: 지원분야이해, 미래설계계획, 인성 및 태도 영역
(3개 영역, 예시문항 참고, 자소서에 관한 추가 질문 포함)
- 면접방식: 영역별 질문에 답하는 형식으로 진행

3. 구술면접 (마이스터인재전형, 캠프수료자전형)

- 면접영역: 창의적문제해결력, 수리력 (뉴미디어소프트웨어과),
창의적문제해결력, 공간지각능력 (뉴미디어디자인과)
(지원 학과별 2개 영역, 예시 문항 미제공)
- 면접방식: 영역별 질문에 각각 답하는 형식으로 진행

미림마이스터고 신입생 전형 적성검사 (예시 문항)

1

언어이해 영역 (예시 문항)

※ 다음의 글을 읽고 아래의 문제에 답하시오.

식생활이 잘못되면 우리는 쉽게 비만에 걸리게 된다. 이러한 식생활에서 특히 문제가 되는 것은 인스턴트 식품이다. 이러한 식품들은 쉽게 비만을 일으키기 때문인데 안타깝게도 현대 사회는 간편하다는 이유로 다양한 인스턴트 식품들을 생산하고 판매하고 있어 문제가 되고 있다.

1. 이 글로 보아 인스턴트 식품의 특징은 무엇인가요?

- ① 간편하지 않은 생산이다.
- ② 비만을 걸리지 않게 한다.
- ③ 쉽게 비만을 일으킨다.
- ④ 현대 사회에서 보기 어렵다.
- ⑤ 다양하지 않은 제품들이 있다.

2

수열추리 영역 (예시 문항)

1. 다음과 같이 어떤 규칙에 의해 나열된 숫자가 있습니다. 빈칸에 어떤 숫자를 넣어야 할까요?

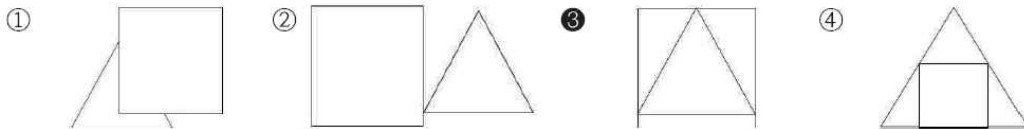
1 2 3 4 5 6 □

- ① 10
- ② 9
- ③ 8
- ④ 7
- ⑤ 6

3

지각표상 영역 (예시 문항)

1. 사각형 위에 삼각형이 있는 것은 어느 것입니까?



미림마이스터고 신입생 전형 적성검사 (예시 문항)

4

수리이해 영역 (예시 문항)


1. 정호는 이번 시험에서 국어는 85점, 수학은 90점, 사회는 70점, 영어는 95점을 받았습니다.
정호의 시험 총 점수는 몇 점입니까?

- ① 340 점 ② 335 점 ③ 330 점 ④ 325 점 ⑤ 320 점

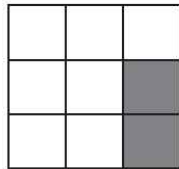
5

공간이해 영역 (예시 문항)

1.



+



(좌우대칭 겹침 가능)

- ① ② ③ ④ ⑤

미림마이스터고 신입생 전형 심층면접 (예시 문항)

1-1

지원분야이해(뉴미디어소프트웨어과) 영역 (예시 문항)

소프트웨어 개발과 관련한 직업 두 가지를 말해보세요.

소프트웨어 개발자가 되기 위해 필요한 역량(성격 또는 자세) 중 본인이 갖고 있는 것은 무엇인지 말해보세요.

1-2

지원분야이해(뉴미디어디자인과) 영역 (예시 문항)

디자인을 배우겠다고 결심한 계기와 우리 학교의 디자인 전공 분야에 대해서 말해보세요.

중학교에서 미술이나 디자인과 관련된 교외 활동 중 기억에 남는 경험을 말해보세요.

2

미래설계계획 영역 (예시 문항)

자신이 IT 분야 마이스터가 되기까지 가장 필요한 것이 무엇이며 이를 준비하기 위한 계획을 말해보세요.

자신의 목표 성취에 가장 장애가 되는 것은 무엇이며, 그것을 극복하기 위한 자신만의 방법을 말해보세요.

3

인성 및 태도 영역 (예시 문항)

미림마이스터고 입학을 통해서 내가 가장 하고 싶은 일이 무엇인지 말해보세요.

본인의 좌우명이 무엇이고, 좌우명으로 삼은 이유는 무엇인지 말해보세요.