

2025학년도 미림마이스터고 인·적성검사 및 심층면접 안내

1. 인·적성검사(지원자 전원)

5개 영역 적성검사와 인성검사를 진행합니다.

(적성검사 예시 문항 참고, 인성검사 예시 문항 미제공)

2. 심층면접(지원자 전원)

지원분야이해, 미래설계계획, 인성 및 태도 영역의 질문에 답하는 형식으로 진행합니다. 자소서에 관한 질문이 추가될 수 있습니다.

(예시 문항 참고)

3. 구술면접(마이스터인재전형, 캠프수료자전형)

창의력, 문제해결력, 언어능력, 수리력, 공간지각능력 5개의 영역의 질문에 각각 답하는 형식으로 진행됩니다.

(예시 문항 미제공)

미림마이스터고 신입생 적성검사 예시 문항

1

언어이해 영역 예시 문항

※ 다음의 글을 읽고 아래의 문제에 답하십시오.

식생활이 잘못되면 우리는 쉽게 비만에 걸리게 된다. 이러한 식생활에서 특히 문제가 되는 것은 인스턴트 식품이다. 이러한 식품들은 쉽게 비만을 일으키기 때문인데 안타깝게도 현대 사회는 간편하다는 이유로 다양한 인스턴트 식품들을 생산하고 판매하고 있어 문제가 되고 있다.

1. 이 글로 보아 인스턴트 식품의 특징은 무엇인가?

- ① 간편하지 않은 생산이다.
- ② 비만을 걸리지 않게 한다.
- ③ 쉽게 비만을 일으킨다.
- ④ 현대 사회에서 보기 어렵다
- ⑤ 다양하지 않은 제품들이 있다.

2

수열추리 영역 예시 문항

1. 다음과 같이 어떤 규칙에 의해 나열된 숫자가 있습니다. 빈칸에 어떤 숫자를 넣어야 할까요?

1 2 3 4 5 6 □

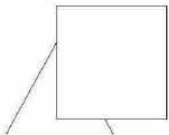
- ① 10
- ② 9
- ③ 8
- ④ 7
- ⑤ 6

3

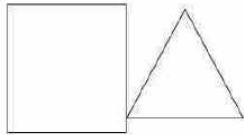
지각표상력 영역 예시 문항

1. 사각형 위에 삼각형이 있는 것은 어느 것입니까?

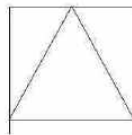
①



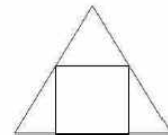
②



③



④



미림마이스터고 신입생 적성검사 예시 문항

4

수리이해 영역 예시 문항


1. 정호는 이번 시험에서 국어는 85점, 수학은 90점, 사회는 70점, 영어는 95점을 받았습니다.
정호의 시험 총 점수는 몇 점입니까?

- ① 340 점 ② 335 점 ③ 330 점 ④ 325 점 ⑤ 320 점

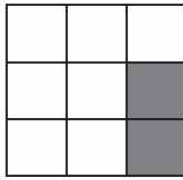
5

공간이해 영역 예시 문항

1.




+




(좌우대칭 겹침 가능)

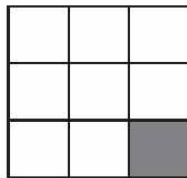
①




②




③



④



⑤



미림마이스터고 신입생 심층 면접 예시 문항

1-1

지원분야이해(소프트웨어과) 영역 예시 문항

소프트웨어 개발과 관련한 직업 두 가지를 말하고, 각각을 설명하시오.

1-2

지원분야이해(디자인과) 영역 예시 문항

디자인을 배우겠다고 결심한 계기와 우리 학교의 디자인 전공 분야에 대해서 설명하시오.

2

미래설계계획 영역 예시 문항

자신이 IT 분야 마이스터가 되기까지 가장 필요한 것이 무엇이며 이를 준비하기 위한 계획을 말하시오.

3

인성 및 태도 영역 예시 문항

다음 빈칸에 어떠한 말을 넣고 그에 대한 자신의 의견을 이야기하시오.

* 미림마이스터고 입학を 통해서 내가 가장 하고 싶은 일은 _____ 이다.